

Universidade de São Paulo
Instituto de Ciências Matemáticas e de Computação
Curso de Ciências de Computação

SCC-205
TEORIA DA COMPUTAÇÃO E LINGUAGENS FORMAIS
Turma 1 – 2º. Semestre de 2012 – Prof. João Luís

Lista de Exercícios Capítulo 1

1. Que linguagem a gramática

$$\begin{aligned} S &\rightarrow () \\ S &\rightarrow)(\\ S &\rightarrow SS \\ S &\rightarrow (S) \\ S &\rightarrow)S(\end{aligned}$$

gera?

2. Que linguagem a gramática

$$\begin{aligned} S &\rightarrow 0 \\ S &\rightarrow 1 \\ S &\rightarrow S0 \end{aligned}$$

gera?

3. Esta gramática:

$$\begin{aligned} S &\rightarrow () \\ S &\rightarrow (S) \\ S &\rightarrow SSS \end{aligned}$$

gera exatamente a linguagem dos parênteses casados?

4. Escreva uma gramática para a linguagem $\{a^n b^{2^n} \mid n > 0\}$.
5. Que linguagem a gramática $S \rightarrow aSb \mid SS \mid ab \mid ba$ gera? Prove seu resultado.
6. Escreva gramáticas para as seguintes linguagens:
- expressões aritméticas envolvendo os dígitos 0 e 1 e as operações + e *.
Exemplo: $(1 + (0 * 1))$
 - $\{w \mid w \text{ é da forma } a^n b^m, \text{ com } n < m\}$
 - Fórmulas do cálculo proposicional com duas variáveis, p e q , e conectivos *and*, *or* e *not*. Exemplo: $(p \text{ or } (q \text{ and } (\text{not } p)))$
 - $\{ww^R \mid w \text{ em } \{a,b\}^*\}$ onde w^R significa a forma reversa de w , isto é, se $w = abaa$, então $w^R = aaba$.

7. Ache uma GLD para a linguagem $\{w \in \{a, b\}^* \mid w \text{ não contenha a subcadeia } bab\}$.
8. Seja a seguinte definição: Uma gramática $G = (\Sigma, V, S, P)$ é linear a direita se toda produção for da forma $A \rightarrow bC$ ou $A \rightarrow b$, onde A e $C \in V$ e $b \in \Sigma \cup \{\lambda\}$. Agora seja a seguinte gramática G_1 composta das seguintes produções: $A \rightarrow wB \mid w$, onde A e $B \in V$ e $w \in \Sigma^*$. Mostre que $L(G_1)$ pode ser gerada por uma gramática linear a direita.
9. Descreva em palavras as linguagens especificadas pelas seguintes expressões regulares:

- (a) $(aa)^*(bb)^*$
 (b) $(a^*b^*c^*)^*$
 (c) $((a + b + c)(bb)^* + (a + b + c))^*$
 (d) $(aaa + aaaaa)^*$

10. Dê uma GLD para a linguagem $((a + bb)^* + c)^*$.
11. Converta os seguintes conjuntos regulares em AFNs.
 (a) $((11)^*0)^* + 00)^*$
 (b) $(1 + 11 + 0)^*(00)^*$
12. Especifique e descreva um AFN que aceita o conjunto de todas as sentenças com dois 0's consecutivos ou dois 1's consecutivos, para $\Sigma = \{0,1\}$.
13. Seja $M = (\{q_0, q_1\}, \{0,1\}, \delta, \{q_0\}, \{q_1\})$ um AFN (autômato finito não determinístico) onde

$$\delta(q_0, 0) = \{q_0, q_1\} \quad \delta(q_0, 1) = \{q_1\} \quad \delta(q_1, 0) = \emptyset \quad \delta(q_1, 1) = \{q_0, q_1\}$$

Qual é o AFD (autômato finito determinístico) correspondente?

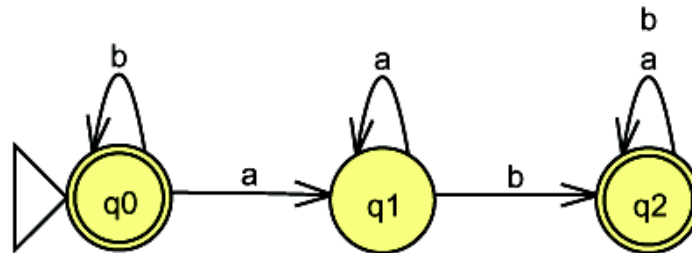
14. Considere a seguinte gramática regular, $G = (\{0, 1\}, \{S, B\}, S, P)$, onde P consiste de: $S \rightarrow 0B, B \rightarrow 0B, B \rightarrow 1S, B \rightarrow 0$. Pode-se construir um autômato finito não determinístico $M = (\{S, B, A\}, \{0,1\}, \delta, \{S\}, \{A\})$, onde δ é dado por:
- 1) $\delta(S, 0) = \{B\}$, já que $S \rightarrow 0B$ é a única produção em P com S à esquerda e 0 à direita.
 - 2) $\delta(S, 1) = \emptyset$, já que nenhuma produção tem S à esquerda e 1 à direita.
 - 3) $\delta(B, 0) = \{B, A\}$, já que $B \rightarrow 0B$ e $B \rightarrow 0$ estão em P .
 - 4) $\delta(B, 1) = \{S\}$, já que $B \rightarrow 1S$ está em P .
 - 5) $\delta(A, 0) = \delta(A, 1) = \emptyset$.

Ache um autômato finito determinístico M_1 equivalente a M .

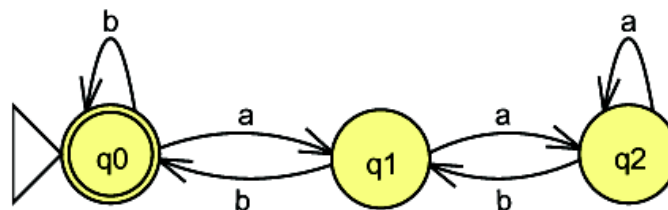
15. Ache um autômato finito determinístico (AFD) que aceite todas as cadeias em $\{0,1\}^*$ tal que todo 0 tem um 1 imediatamente à sua direita. Construa uma gramática do tipo 3 que gere esta linguagem.

16. Dê os conjuntos regulares correspondentes aos seguintes AFDs:

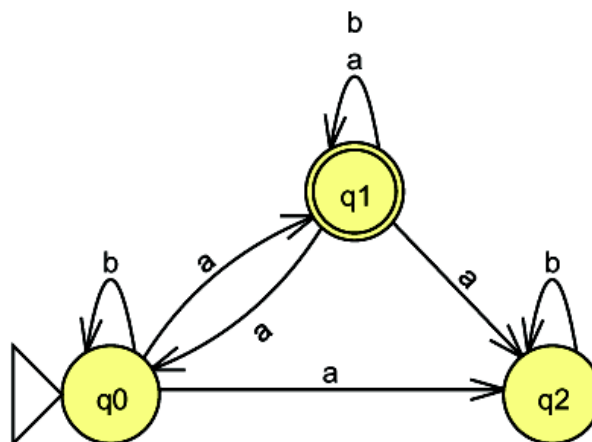
(a)



(b)



17. Converta o seguinte AFN em um AFD.



18. Seja

$$M = (\{q_0, q_1, q_2\}, \{a, b\}, \delta, \{q_0\}, \{q_2\})$$

um autômato finito não determinístico (AFN) com δ dado por:

	a	b
q_0	$\{q_1, q_2\}$	$\{q_0\}$
q_1	$\{q_0, q_1\}$	\emptyset
q_2	$\{q_0, q_2\}$	$\{q_1\}$

Ache um autômato finito determinístico (AFD) que aceite $T(M)$.

19. Considerando que:

- toda linguagem livre de contexto também é sensível ao contexto;
- nem toda gramática livre de contexto é sensível ao contexto;
- há quatro tipos de gramáticas/linguagens segundo Chomsky,

as gramáticas abaixo são livres de contexto? São sensíveis ao contexto? Por que?

- a) $G = (\Sigma, V, S, P)$, onde $\Sigma = \{a, b\}$, $V = \{A, B\}$, $S = A$, $P = \{ A \rightarrow Ba, B \rightarrow BB, Aa \rightarrow Bb, B \rightarrow b, B \rightarrow bA, A \rightarrow a, Ab \rightarrow \lambda \}$
- b) $G = (\Sigma, V, S, P)$, onde $\Sigma = \{0, 1\}$, $V = \{S\}$, $P = \{S \rightarrow 0S1, S \rightarrow \lambda\}$

Que linguagem é gerada pela gramática do item b)?

20. Quais são as diferenças básicas entre um autômato finito determinístico e um não determinístico? Defina $T(M)$, o conjunto de cadeias aceitas pelo autômato M , para os dois tipos.
21. Dê a especificação e o diagrama de estados de um autômato finito não determinístico M que aceite a linguagem $(a + b)^*$ tal que nenhuma cadeia só de a 's ou só de b 's seja aceita. Obtenha o autômato determinístico M' equivalente a M . Construa uma gramática linear à direita que gere esta linguagem. Dê a expressão regular que representa esta linguagem.
22. Dê a especificação $(Q, \Sigma, \delta, Q_0, F)$ e o diagrama de estados de um autômato finito não determinístico (AFN) que aceite o conjunto de todas as cadeias que contenham dois 0's consecutivos ou dois 1's consecutivos. Teste para 011010.
23. Considere gramáticas lineares à esquerda, que são gramáticas nas quais toda produção é da forma $A \rightarrow Ab$ ou $A \rightarrow b$, com $A \in V$ e $b \in \Sigma \cup \{\lambda\}$. Uma linguagem linear à esquerda é uma linguagem que pode ser gerada por uma gramática linear à esquerda. Mostre através de um exemplo, que as linguagens lineares à esquerda coincidem com as linguagens lineares à direita.
24. Dê a especificação $(Q, \Sigma, \delta, q_0, F)$ e o diagrama de estados de um autômato finito determinístico (AFD) que aceite cadeias de um alfabeto $\Sigma = \{0,1\}$, com número par de 0's e um número par de 1's. Escreva a gramática linear a direita

(GLD) equivalente a esse autômato e a expressão regular que representa a linguagem de estados finitos correspondente.

25. Seja $\Sigma = \{a, b\}$. Mostre que a linguagem L_1 que consiste de todas as cadeias nas quais o número de a 's é igual ao número de b 's não é regular.
26. Dado um alfabeto Σ . Considere a seguinte linha de raciocínio:
 - a) Para qualquer cadeia $x \in \Sigma^*$, a linguagem $\{x\}$ é regular.
 - b) Para quaisquer linguagens regulares A e B , a linguagem $A \cup B$ é regular.
 - c) Toda linguagem $L \subseteq \Sigma^*$ pode ser escrita como uma união de linguagens da seguinte forma: $L = \cup_{x \in L} \{x\}$.
 - d) Portanto, toda linguagem $L \subseteq \Sigma^*$ é regular.

Critique este argumento. As três hipóteses estão corretas? A lógica é válida? Se não, você pode identificar uma falha? A conclusão está correta?

27. Construa um autômato finito que aceite a linguagem regular $\{(ab)^*b^+c^*\}$ sem usar arcos- λ .
28. Dê o autômato finito determinístico que aceite a linguagem regular $L = (b^+c^+ab)$. Qual é a gramática linear a direita G que gera L ?
29. Seja $M = (\{q_0, q_1, q_2\}, \{a, b\}, \delta, \{q_0\}, \{q_2\})$ um autômato finito não determinístico (AFN) com mapeamento de transmissão de estado δ definida como

$$\begin{array}{lll} \delta(q_0, a) = \{q_1, q_2\} & \delta(q_1, a) = \{q_0, q_1\} & \delta(q_2, a) = \{q_0, q_2\} \\ \delta(q_0, b) = \{q_0\} & \delta(q_1, b) = \emptyset & \delta(q_2, b) = \{q_1\} \end{array}$$

- a) Ache um autômato finito determinístico (AFD) que aceite o conjunto de cadeias aceitas por M ;
 - b) Ache a gramática linear a direita (GLD) que gera a Linguagem de Estados Finitos (LEF) aceita por M ;
 - c) Ache a expressão regular que represente esta linguagem.
30. Considere uma gramática $G = (\Sigma, V, S, P)$, onde $\Sigma = \{0, 1\}$, $V = \{S\}$, $P = \{S \rightarrow 0S1, S \rightarrow 01\}$. Qual o tipo (menos complexo) desta gramática segundo a hierarquia de Chomsky? Dê a descrição formal da linguagem gerada por esta gramática. Se for possível, descreva o autômato finito, com o menor número de estados possível, que aceite esta linguagem.
31. Quais são as diferenças básicas entre um autômato finito determinístico (AFD) e um não determinístico (AFN)? Defina $T(M)$, o conjunto de cadeias aceitas pelo autômato M , para os dois tipos.

32. Seja a linguagem $L \subset \{0, 1\}^*$ constituída de cadeias que contêm a subcadeia **10** a sua extrema direita. Exemplo: $10010 \in L$, enquanto que $010100 \notin L$.

- Escreva um autômato finito não-determinístico (AFN) que aceita a linguagem L ;
- Escreva o autômato finito determinístico (AFD) que aceita L ;
- Escreva a expressão regular equivalente a L ;
- Escreva a gramática linear a direita, sem produções- λ , que gera L .

33. Considere a seguinte linguagem:

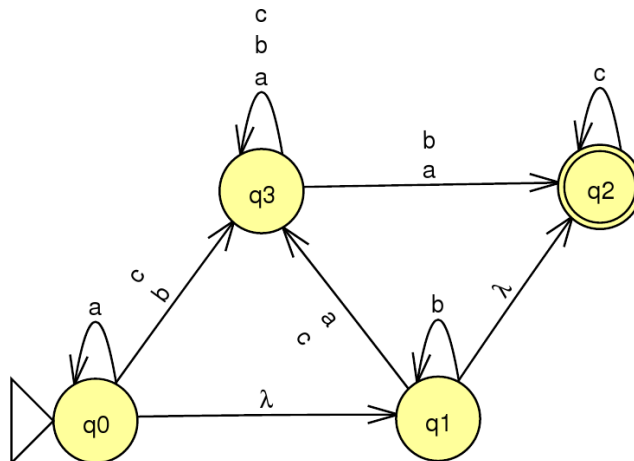
$$L = \{ w \mid w \in (a + b)^* \text{ tal que haja número par de duplas de ba's} \}$$

Exemplo: a cadeia **abaabbaba** não pertence a L , enquanto que a cadeia **baabba** pertence. Se possível, escreva o autômato finito determinístico (AFD) que processa L e dê a gramática linear a direita equivalente. Se não for possível explique o porquê.

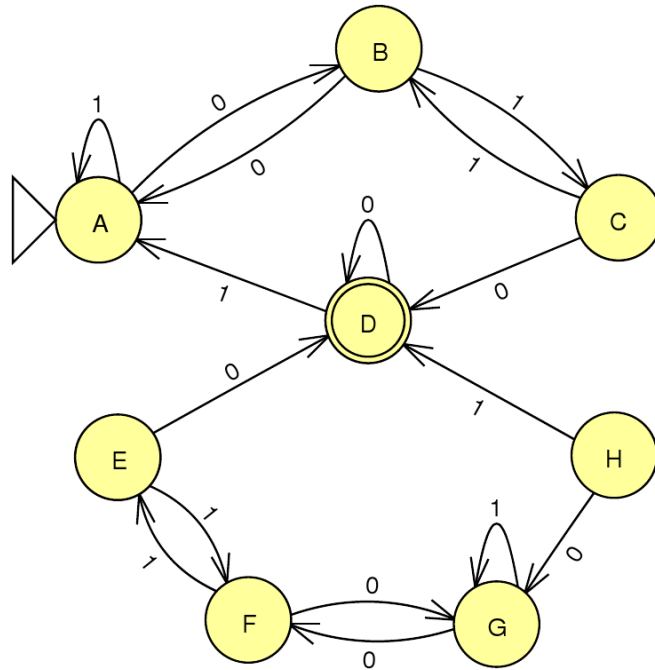
34. Dê o diagrama de estados de um autômato finito determinístico (AFD) que aceite a linguagem dada pela expressão regular $(b^* + (ab)^*)$. Escreva a gramática equivalente.

35.

- Converta o AF λ abaixo no AFN equivalente;
- Obtenha o AFD equivalente;
- Obtenha a ER equivalente;
- Obtenha a GLD equivalente;
- Obtenha o autômato mínimo equivalente.



36. Construa o AFD com número mínimo de estados equivalente ao seguinte autômato:



37. Construa o AFD com número mínimo de estados equivalente ao seguinte autômato:

